

Matematikos
viktorina
„Skaičių
pasaulyje“

2021-03-31

Namų darbai:

1. Klasių prisistatymas.

Penktokai:

Penktokai skaičių šalyje nepasiklydę,
Nes auklėtoja veda šiuo keliu.
Mes matematiką pamilę
Uždavinukus sprendžiam su džiaugsmu.
Penketukas mums brangus
Problemyčių daug nebus.
Jo daugyba paprasta
Ir dalyba gan lengva.

Šeštokai:

Viens, du, trys, keturi
Mes šeštokai dideli.
Žaidžiam, piešiam ir dainuojam
Ir ties skaičiais prakaituojam!
Skaičių šalį mes pažįstam
Ir joje nepasiklystam.
Viens, du, trys, keturi,
Matematika puiki!

Septintokai:

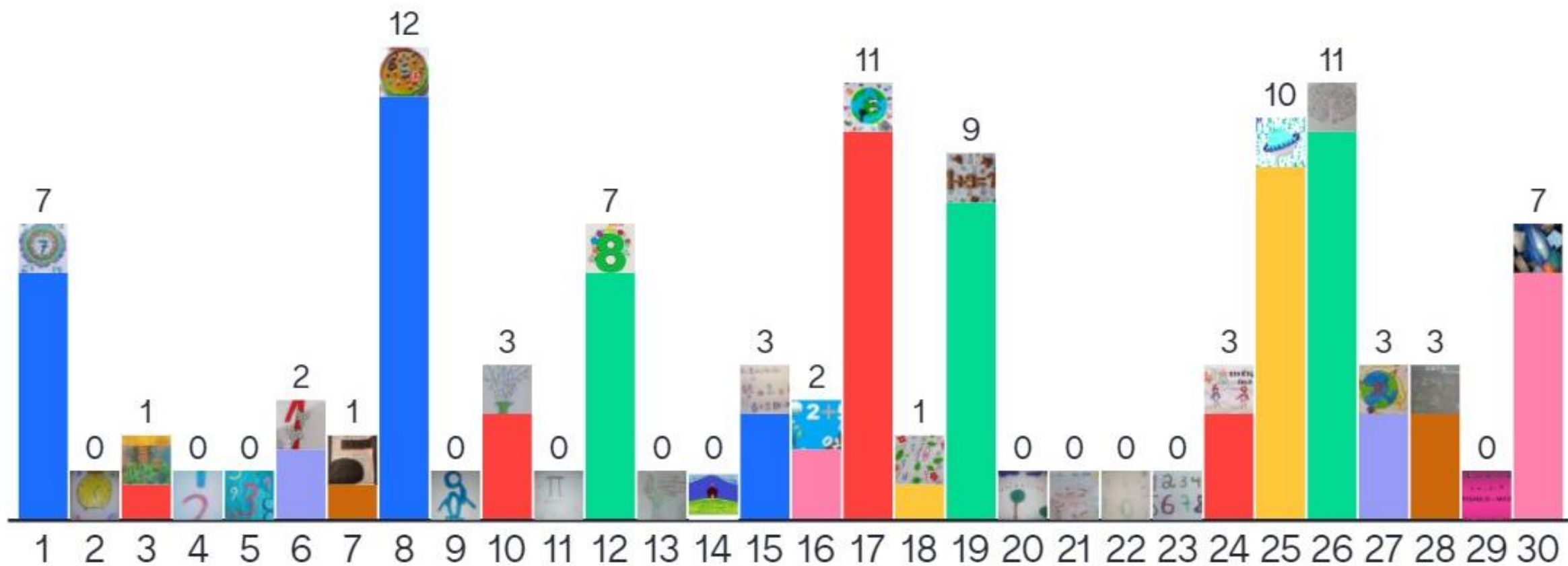
Septintokai mokinukai,
Matematikai vaikiukai.
Moka ir sudėti ir atimti,
Dar padauginti, dalinti.
Viens, du, trys, keturi
Geras skaičius - septyni!

Aštuntokai:

Matematika sunki
Skauda galvą - negali.
Pažymiai su kuolais vejas
Sėdi ausyse ir spengia
Ir klaidinti pasirengę.
Mano jie, kad mus klaidina,
Bet mes žaidžiam viktoriną.
Jei sujungsime jėgas –
Aštuntokai vėl supras.

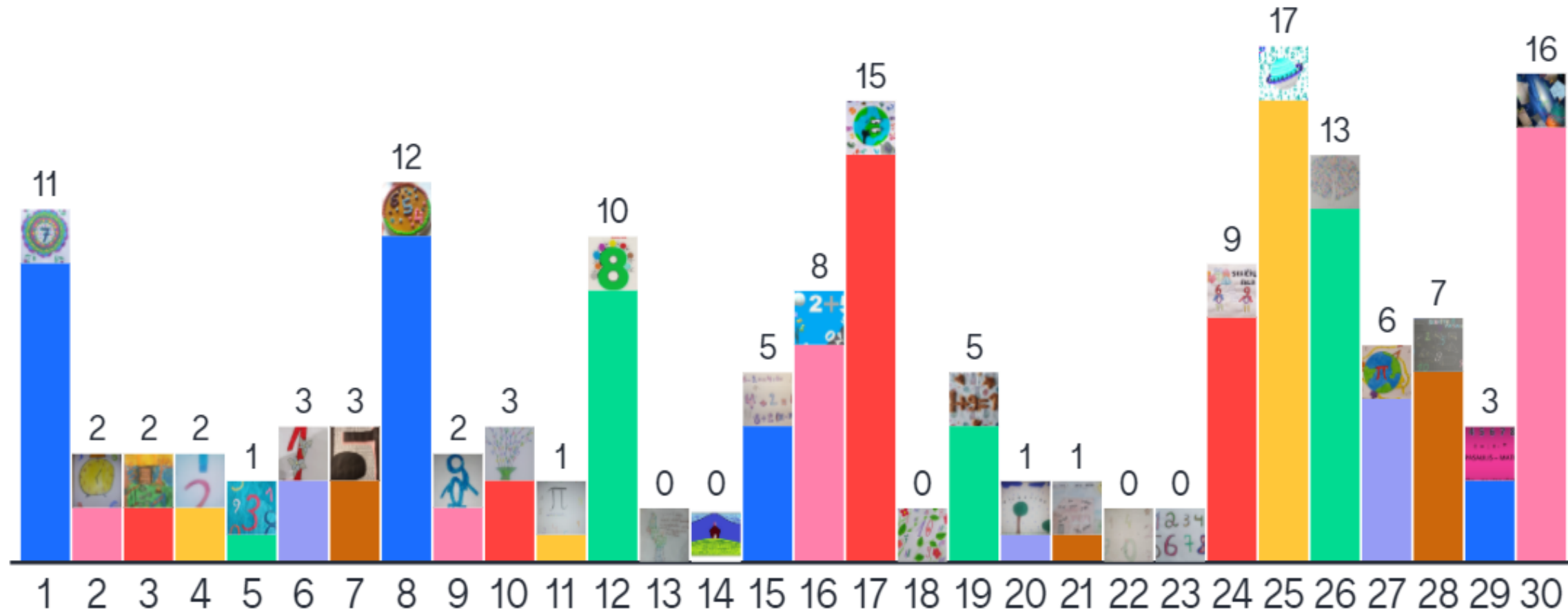
2. 5 – 6 kl. kūrybinės užduoties vertinimas. (20 dalyvių)

03-31 Matematiniai piešiniai (balsuoja 5-6 kl.)



7 – 8 kl. kūrybinės užduoties vertinimas. (33 dalyviai)

03-31 Matematiniai piešiniai (balsuoja 7-8 kl.)



Veiklos:

1. Viktorina „Skaičių pasaulyje“ per „Kahoot“ programėlę. www.kahoot.it



Skaičiui 36 priešingas skaičius.

15



13
Answers

▲ 36


◆ -1/36

● -36

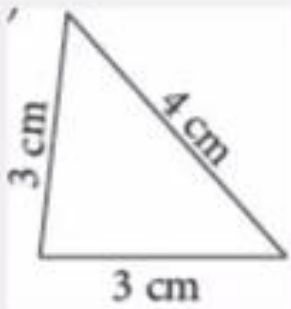
■ 1/36

11/20

kahoot.it Game PIN: 4617667



Kam lygus trikampio (pavaizduoto paveikslėlyje) perimetras?



3
Answers

▲ 6

◆ 10

● 7

■ 3

7-8 kl. matematikos viktorina „Skaičių pasaulyje“

7 kl. Vilija 8kl. Rūta

A.

1

12720
14 iš 20

Skaistė 8 kl

3

12032 m
13 iš 20

2

12530 m
14 iš 20

Antrosios vietos laimėtojai

4

Benedikt...

5

Dominyk...

2. „Mini“ olimpiada



5 – 6 kl. „Mini“ olimpiada

1. NORA TURI TRIS TOKIUS PAGALIUKUS: —. JŲ NEGALIMA NEI LAUŽTI, NEI LENKTI. KURIĄ IŠ PAVAIZDUOTŲ FIGŪRŲ GALĖJO SUDĖLIOTI NORA?



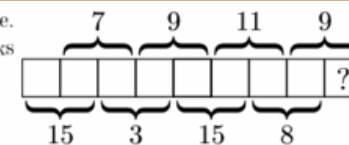
2. SEPTYNI VAIKAI STOVI SUSIKIBĘ RANKOMIS EILĖJE. VIENI ŽIŪRI Į PRIEKĮ, O KITI – ATGAL (ŽR. PAVEIKSLĖLĮ). KIEK IŠ ŠIŲ VAIKŲ LAIKO KITO VAIKO RANKĄ DEŠINE RANKA?



A) 2 B) 3 C) 4 D) 5 E) 6

7 – 8 kl. „Mini“ olimpiada

1. Skaičiai nuo 1 iki 9 slepiasi pavaizduotuose langeliuose. Paveikslėlyje nurodytos visos dviejų gretimų skaičių sumos. Koks skaičius slepiasi paskutiniame langelyje?
A) 7 B) 6 C) 5 D) 4 E) 3



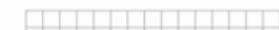
2. Teisingai sujungę 5 pavaizduotas detales, gausime stačiakampę dėlionę, kurioje užrašytas sudėties veiksmas. Ką gausime atlikę šią sudėtį?



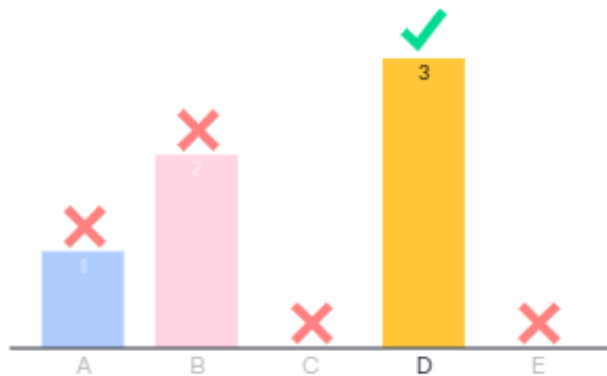
A) 22 B) 32 C) 41 D) 122 E) 203

3. Šių metų skaičius 2021 užrašomas dviem gretimais natūraliaisiais skaičiais 20 ir 21 didėjimo tvarka. Po kiek metų pirmą kartą pasikartos tokia situacija?

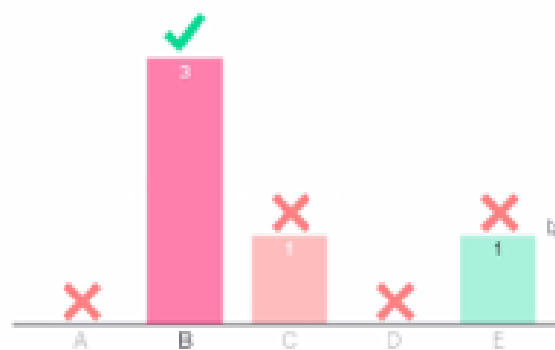
A) 10 B) 11 C) 12 D) 101 E) 102



1 KLAUSIMAS



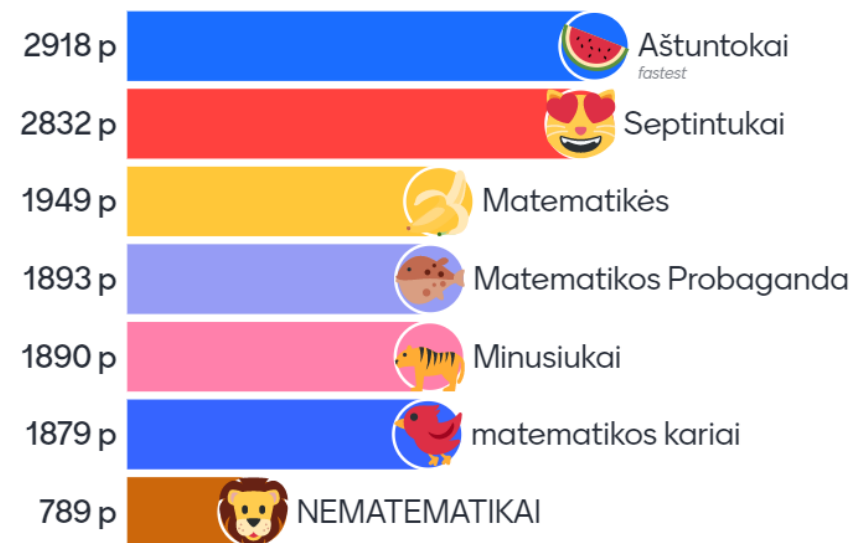
4 KLAUSIMAS



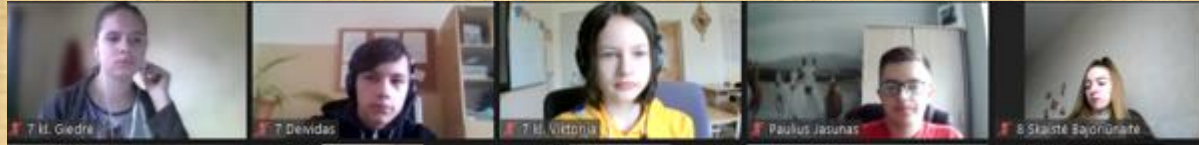
Mini olimpiada (5-6 kl. komandos)



7-8 kl. komandos



3. Žaidimas „Atspėk“



STIMŠA

PRATMUNE

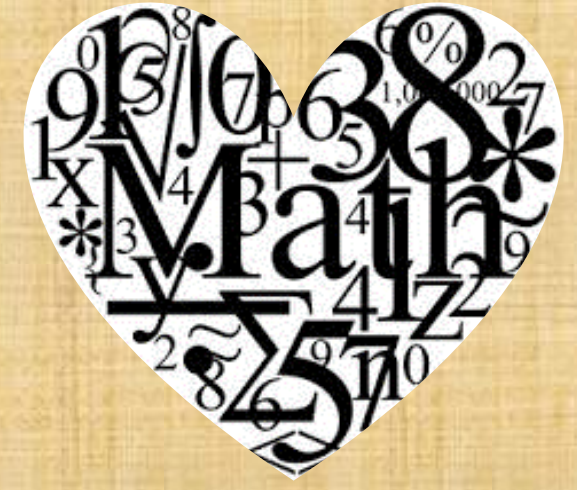
KSČAIUSI


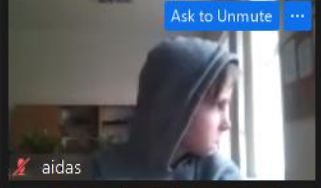
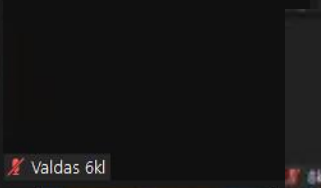
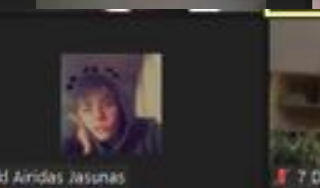



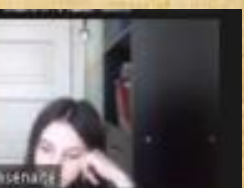




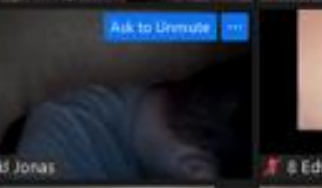






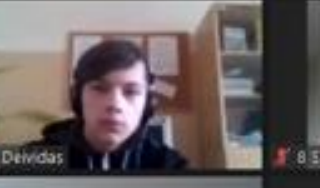




NUISMAS

5-6 kl. Matematikos viktorinos refleksija



 Inga Lauksēdīnē	 Vaškai Gimnazija	 Emilija 6kl	 6kl Gabrielius Bukantis ...	 5kl Gabrielė Matuzaitė
 6Loreta	 Ainora 5klase	 Ugne 5 kl	 kamile 5kl	 Akvilė Janulytė 5kl
 Zaneta J. 5kl.	 Miglė Jasėnaitė 5kl	 6 kl. Austėja Budzinskai...	 6kl Karolis	 6kl Dovydas Žviedrys



 Guoda	 aidas	 Valdas 6kl	 8kl Airidas Jasunas	 7 Darius Grigelionis	 8kl Matas Kabauskas	 7kl Giedrius	 Ugnė Jasėnaitė
 Simas 5kl	 Augustė	 Ingrida Beinorienė	 7 kl Gita Mockunaitė	 7 kl Jonas	 8 Edvinas N	 7kl Miglė Zubavičiūtė	 7 kl. Giedrė
 7 Deividas	 8 Skaitė Bajonishaitė	 8 Rūta	 8 klase Saldomija Morke	 Evelina S. 8kl.	 7 Emilija Kaminskaitė	 Astijus	 7 kl. Karina